

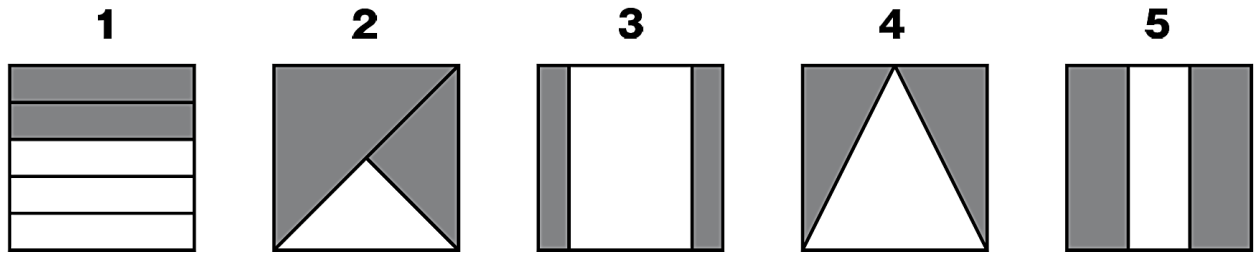
②-2 3年 分数

年 組 番

名前

次の正方形のうち、 $\frac{2}{3}$ が黒くぬられているのは、どれですか。

下の **1** から **5** までの中から ^{えら} 一つ選んで、その番号を書きましょう。



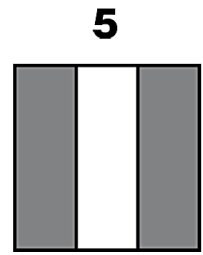
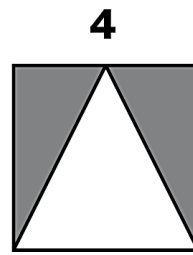
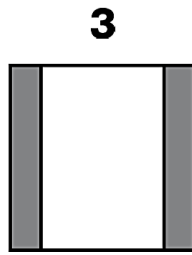
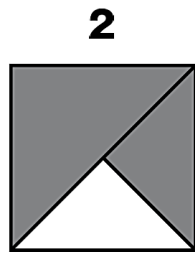
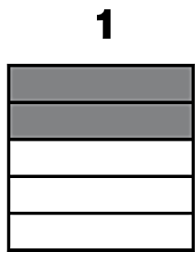
②-2 3年 分数

年 組 番

名前

次の正方形のうち、 $\frac{2}{3}$ が黒くぬられているのは、どれですか。

下の **1** から **5** までの中から ^{えら} 一つ選んで、その番号を書きましょう。



5